



**20º ROTEIRO DE ATIVIDADES COMPLEMENTARES DE ESTUDO – COVID 19**

**ALUNO (A):** \_\_\_\_\_

**ESCOLA MUNICIPAL PARIGOT DE SOUZA**

**PROFESSOR: CELIA VERRI E SUELI DUTRA**

**TURMA: SRM – GRUPO 3**

**COMPONENTES CURRICULARES: LÍNGUA PORTUGUESA E MATEMÁTICA**

**PERÍODO DE REALIZAÇÃO: 21/09/2020 A 25/09/2020**

**OLÁ QUERIDOS ALUNOS! MAIS UMA SEMANA DE ATIVIDADES SE INICIA. SE  
PRECISAREM DE AJUDA ESTOU A DISPOSIÇÃO PELO WHATSAPP.**


|  |  |
|--|--|
| <b>O QUE VOCÊ<br/>VAI<br/>ESTUDAR?</b>                         | <b>LÍNGUA PORTUGUESA:</b> LEITURA E ESCRITA, LISTA DE PALAVRAS, PRODUÇÃO DE TEXTO DIRIGIDA.<br><b>MATEMÁTICA:</b> DESENVOLVER O RACIOCÍNIO LÓGICO, A PERCEPÇÃO VISUAL, ENTENDER, ANALISAR E RESOLVER SITUAÇÕES PROBLEMA. REPRESENTAR UTILIZANDO MATERIAL DOURADO.  |
| <b>PARA QUE<br/>VAMOS<br/>ESTUDAR<br/>ESSES<br/>CONTEÚDOS?</b> | <ul style="list-style-type: none"> <li>• DESENVOLVER A ATENÇÃO, A CRIATIVIDADE E A PERCEPÇÃO VISUAL.</li> <li>• EXERCITAR A LEITURA E A ESCRITA.</li> <li>• ESTIMULAR A OBSERVAÇÃO.</li> <li>• DESENVOLVER O RACIOCÍNIO E A INTERPRETAÇÃO.</li> <li>• REGISTRAR QUANTIDADES REPRESENTADAS POR MATERIAL DOURADO.</li> </ul> |
| <b>COMO VAMOS<br/>REGISTRAR O<br/>QUE<br/>APRENDEMOS<br/>?</b> | <ul style="list-style-type: none"> <li>• ORGANIZE SEUS ESTUDOS!</li> <li>• EM SUAS ATIVIDADES COLOQUE A DATA EM QUE IRÁ REALIZÁ-LAS.</li> <li>• FAÇA UM POUCO POR DIA, SEGUINDO AS DATAS.</li> </ul>   |
| <b>COMO VAMOS<br/>ESTUDAR OS<br/>CONTEÚDOS?</b>                | <ul style="list-style-type: none"> <li>• PRESTE ATENÇÃO NOS COMANDOS AO LADO DE CADA ATIVIDADE, QUE ESTARÁ INDICANDO COMO VOCÊ DEVERÁ FAZER COM CADA ATIVIDADE.</li> <li>• QUEM ESTÁ FAZENDO EM FOLHA IMPRESSA NÃO PRECISA FAZER NO CADERNO TAMBÉM. SOMENTE NA FOLHA.</li> </ul>   |

**TERÇA-FEIRA - 22/09/2020**

**LÍNGUA PORTUGUESA**

1- ENCONTRE E PINTE AS FIGURAS EM DESTAQUE.

OBSERVE A  
CENA E PINTE  
AS FIGURAS.



2- AGORA, FAÇA UMA LISTA DOS OBJETOS QUE VOCÊ PINTOU.

---

---

---

---

---

---

QUARTA-FEIRA – 23/09/2020

LÍNGUA PORTUGUESA

## HISTÓRIA LEGENDADA

SUBSTITUA A LEGENDA PELAS PALAVRAS CORRESPONDENTES  
E ESCREVA A HISTÓRIA.



COMPLETE O  
TEXTO.  
EM SEGUIDA,  
ENVIE UM  
ÁUDIO PARA A  
PROFESSORA,  
FAZENDO A  
LEITURA DO  
TEXTO.

DESDE O DIA EM QUE OS TRÊS \_\_\_\_\_ QUASE FORAM

DEVORADOS PELO \_\_\_\_\_ MAU, ELES PASSARAM A SE PREOCUPAR

COM A SEGURANÇA DA \_\_\_\_\_ DELES. POR ISSO, \_\_\_\_\_ MORAM EM


\_\_\_\_\_ FEITAS COM \_\_\_\_\_, FIRMES E RESISTENTES AO POTENTE

\_\_\_\_\_ DO ESPERTO \_\_\_\_\_.

OS \_\_\_\_\_ APRENDERAM UMA IMPORTANTE \_\_\_\_\_:

\_\_\_\_\_ E \_\_\_\_\_ SÃO COISAS MUITO \_\_\_\_\_, MAS OS

DEVERES VÊM \_\_\_\_\_ EM PRIMEIRO LUGAR.



**QUINTA-FEIRA - 24/09/2020**

**MATEMÁTICA**

## **Situações-problemas**

As crianças entraram numa loja de variedades e compraram alguns brinquedos.

---

1 - Lívia e Laura são irmãs. Lívia gastou 86 reais e Laura 95 reais.



a) Quanto Lívia gastou a menos que Laura?

b) Quanto gastaram juntas?

AJUDE AS CRIANÇAS A SOLUCIONAR OS PROBLEMAS.


2 - Os primos Rafael e Samuel também compraram alguns brinquedos. Rafael gastou 64 reais e Samuel gastou 31 reais.



a) Quanto Rafael gastou a mais que Samuel?

b) Quanto gastaram juntos?





**SEXTA-FEIRA - 25/09/2020**

**MATEMÁTICA**



|                           |                         |                           |
|---------------------------|-------------------------|---------------------------|
|                           |                         |                           |
| cubinho<br>1 unidade<br>1 | barra<br>1 dezena<br>10 | placa<br>1 centena<br>100 |

| Classe das Unidades Simples |                      |                      |
|-----------------------------|----------------------|----------------------|
| 3 <sup>a</sup> ordem        | 2 <sup>a</sup> ordem | 1 <sup>a</sup> ordem |
| Centena                     | Dezena               | Unidade              |

REGISTRE AS  
QUANTIDADES  
REPRESENTA-  
DAS.

|       |       |       |       |
|-------|-------|-------|-------|
|       |       |       |       |
| C D U | C D U | C D U | C D U |
| 1 4 2 |       |       |       |
|       |       |       |       |
| C D U | C D U | C D U | C D U |
|       |       |       |       |
|       |       |       |       |
| C D U | C D U | C D U | C D U |
|       |       |       |       |
|       |       |       |       |
| C D U | C D U | C D U | C D U |
|       |       |       |       |